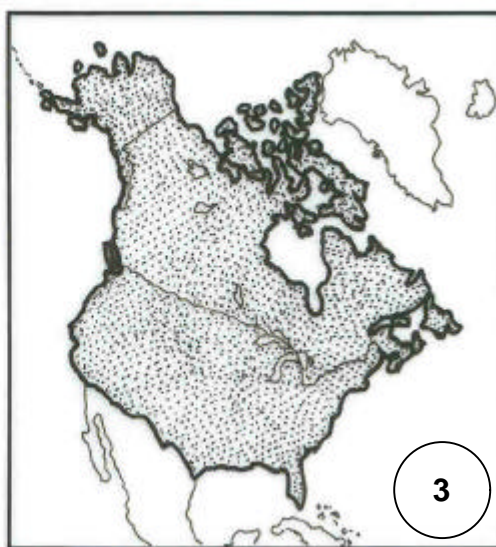
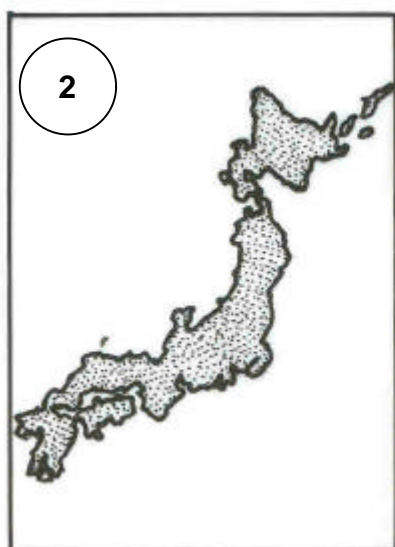
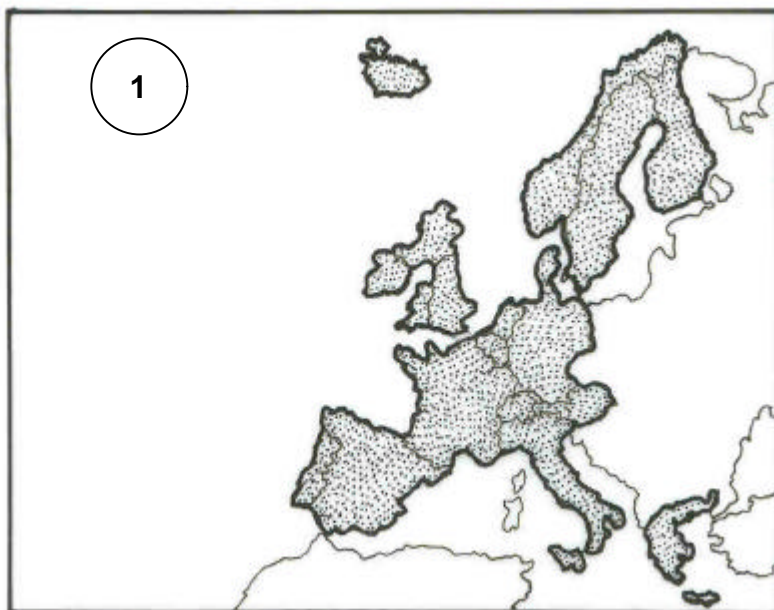


GEOGRAFIA

Instrução: Para responder às questões de números 46 e 47, observe os mapas abaixo.



46. Os espaços destacados nos mapas representam

- (A) as áreas que mais produzem ferro no Hemisfério Norte.
- (B) as principais regiões de desenvolvimento econômico do mundo.
- (C) as áreas em que está concentrada a produção de soja no Hemisfério Sul.
- (D) os países que apresentam as maiores concentrações de população rural do mundo.
- (E) os países que mais exportam petróleo bruto para o Oriente Médio.

47. Assinale a relação correta entre o mapa e o que as áreas destacadas representam.

- (A) Mapa 1 – mostra somente os países que compõem a União Européia.
- (B) Mapa 2 – mostra o país sede da Organização das Nações Unidas (ONU).
- (C) Mapa 3 – mostra os países que formam a América Anglo-Saxônica.
- (D) Mapa 1 – mostra somente os países da Europa Oriental.
- (E) Mapa 2 – mostra um dos países banhado pelo Oceano Índico.

48. Atualmente, a tendência da atividade industrial no Brasil reflete o processo de descentração espacial. As cidades médias estão com índice de crescimento industrial acelerado. Esse fato está relacionado

- I - aos investimentos externos de capitais para a modernização da infra-estrutura responsável pela produção de energia.
- II - à melhora das ferrovias e hidrovias, o que amplia a oferta de locais para a instalação industrial.
- III - ao surgimento de novos sindicatos que qualificam a mão-de-obra residente nas áreas rurais.
- IV - à conquista de mercados nacionais e internacionais, através da especialização e do emprego de tecnologia, em diferentes setores da atividade econômica.

Quais afirmações estão corretas?

- (A) Apenas I e II
- (B) Apenas I e IV
- (C) Apenas III e IV
- (D) Apenas I, II e III
- (E) Apenas II, III e IV

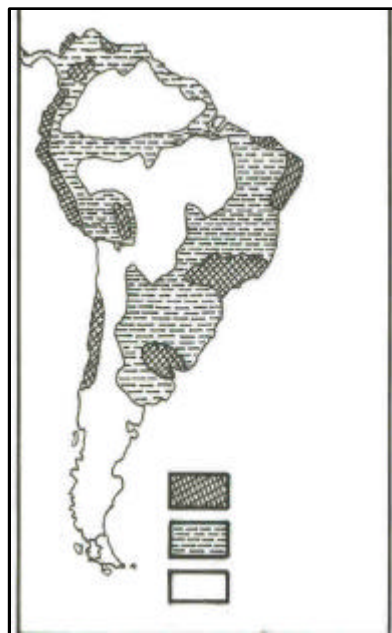
49. O órgão que tem como principal objetivo fiscalizar o pagamento das dívidas externas dos países pobres em relação aos países ricos é

- (A) o FMI (Fundo Monetário Internacional).
- (B) a OMC (Organização Mundial do Comércio).
- (C) o Bird (Banco Internacional de Reconstrução e Desenvolvimento).
- (D) a EU (Unidade Européia).
- (E) o IDH (Instituto de Desenvolvimento Humano).

50. A subregião nordestina que apresenta a maior concentração populacional e tem um clima tropical úmido e grandes propriedades açucareiras é

- (A) a Mata dos Cocais.
- (B) a Zona da Mata.
- (C) o Meio-Norte.
- (D) o Sertão.
- (E) o Agreste.

51. Observe o mapa abaixo.



O mapa da América do Sul apresenta quatro conjuntos de áreas, que possuem entre elas semelhanças geográficas. Pela sua localização e características econômicas, é possível afirmar que as áreas que possuem a maior concentração populacional são as de número _____, porque _____.

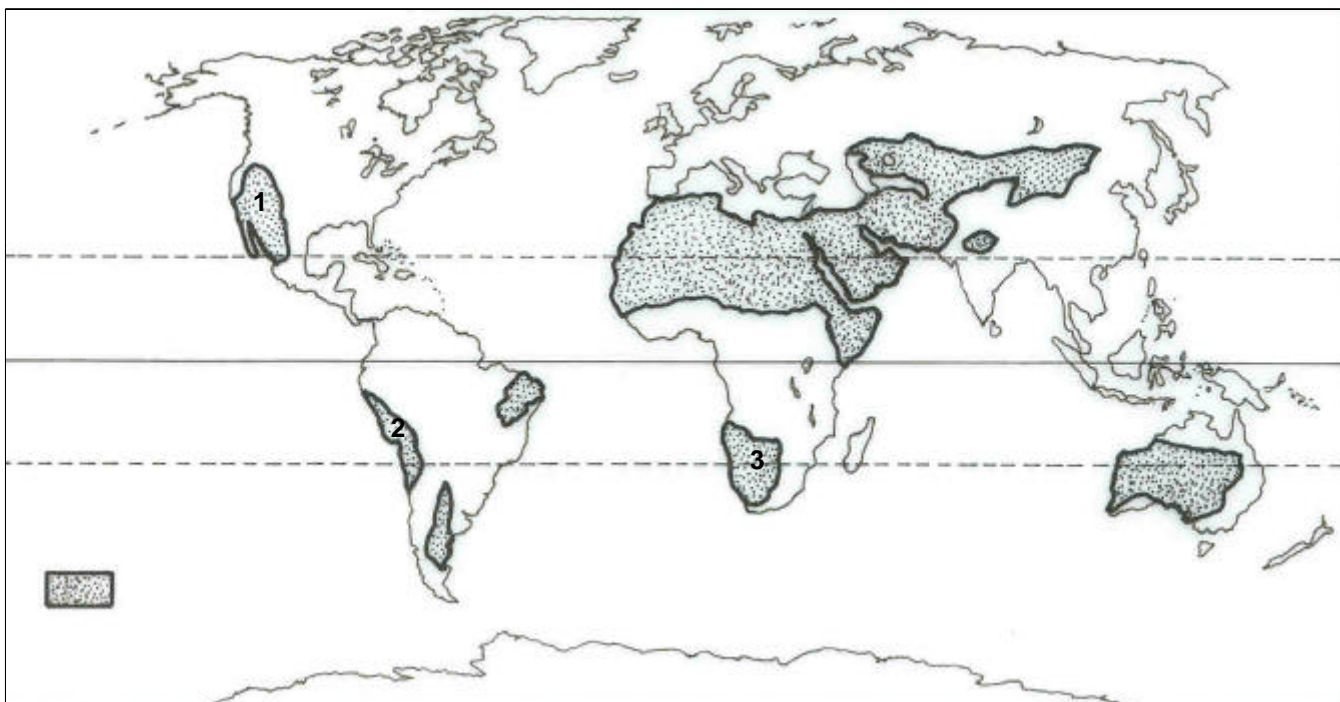
Assinale a alternativa que preenche corretamente as lacunas do texto acima.

- (A) 1 – têm grande concentração de indústrias e de serviços.
- (B) 2 – concentram os principais portos do Oceano Pacífico.
- (C) 3 – estão localizadas nas áreas de baixas taxas de produtividade agrícola.
- (D) 4 – concentram os principais centros históricos que representam a colonização espanhola no Continente Americano.
- (E) 1 – possuem as praias que mais atraem turistas do Hemisfério Norte.

52. Quanto à rede de transporte do Brasil, é possível afirmar que

- (A) o sistema ferroviário predomina na Amazônia.
- (B) o sistema hidroviário é a prioridade dos atuais investimentos governamentais, principalmente no Centro-Sul.
- (C) a crise pela qual passou a indústria automobilística na década passada deixou margem para o desenvolvimento do transporte aéreo.
- (D) a industrialização de bens de produção, no início do século XX, incentivou o surgimento das ferrovias.
- (E) o sistema rodoviário predomina no conjunto dos meios de transporte.

Instrução: As questões de números **53** e **54** têm por base o mapa abaixo.



53. As partes assinaladas no mapa representam áreas que

- (A) apresentam um clima equatorial com pouca pluviosidade.
- (B) têm uma vegetação hidrófila com grande amplitude térmica.
- (C) sofrem processos de desertificação em função do desmatamento das Florestas Equatoriais.
- (D) apresentam climas áridos ou semi-áridos com uma vegetação do tipo xerófila.
- (E) possuem as maiores reservas florestais do mundo.

54. Os números 1, 2 e 3, assinalados no mapa, indicam, respectivamente, os seguintes desertos:

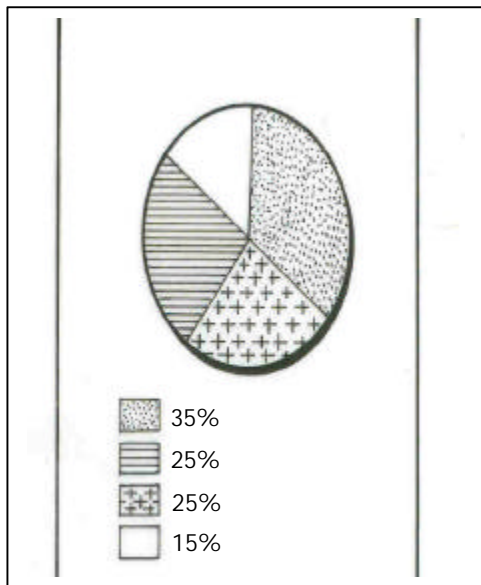
- (A) Colorado, Atacama e Kalahari.
- (B) Gobi, Atacama e Colorado.
- (C) Atacama, Kalahari e Saara.
- (D) Saara, Gobi e Patagônia.
- (E) Patagônia, Saara e Kalahari.

55. Ele nasce no Planalto Sul-Rio-Grandense, é o mais importante rio da Bacia Atlântica, banha as cidades históricas de Triunfo e Rio Pardo e, ao encontrar o Lago Guaíba, forma um delta.

O texto acima refere-se ao rio

- (A) Jaguarão.
- (B) Camaquã.
- (C) Jacuí.
- (D) Uruguai.
- (E) Ibicuí.

56. Observe o gráfico abaixo, que representa a distribuição da população de descendência européia no Rio Grande do Sul.



Qual é a etnia de descendência européia que predomina na formação da população do Rio Grande do Sul?

- (A) Alemã.
(B) Italiana.
(C) Espanhola.
(D) Portuguesa.
(E) Polonesa.
57. Se, no dia 25 de junho, são 16 horas em Porto Alegre, que horas seriam em Rio Branco, estado do Acre?
- (A) 14 horas.
(B) 15 horas.
(C) 17 horas.
(D) 18 horas.
(E) 19 horas.
58. Algumas medidas devem ser urgentemente propostas para resolver o problema da qualidade da água. Considere as abaixo citadas.
- I - Tratamento do esgoto doméstico e industrial antes do despejo em rios ou represas.
II - Proibição do emprego da água potável para lavagem de automóveis.
III- Planejamento e controle da ocupação urbana, próximo dos mananciais.
IV - Aumento da taxa paga pelos consumidores domésticos.
- Quais devem ser tratadas como **prioridade** para preservação da **qualidade** dos recursos hídricos?
- (A) Apenas I e III
(B) Apenas I e IV
(C) Apenas II e III
(D) Apenas I, II e IV
(E) Apenas II, III e IV
59. Quanto à produção, distribuição e utilização de energia no mundo é possível afirmar que
- I - os países da OPEP, com a crise do petróleo de 1973, receberam grande quantidade de riquezas, providas da exportação desse produto.
II - as usinas hidrelétricas suprem 98% do consumo global, restando 2% para a energia nuclear e termelétrica.
III- a energia nuclear está baseada na fissão do átomo, tendo como matéria-prima o urânio ou o tório.
IV - o biogás liberado a partir da decomposição do lixo residencial pode ser empregado como combustível.
- Quais afirmações estão corretas?
- (A) Apenas I e II
(B) Apenas I e III
(C) Apenas II e IV
(D) Apenas I, II e III
(E) Apenas I, III e IV
60. No dia 22 de dezembro, ou seja, durante o solstício de verão do Hemisfério Sul, o Sol está em posição perpendicular à cidade de
- (A) Manaus.
(B) Cuiabá.
(C) São Paulo.
(D) Porto Alegre.
(E) Macapá.